



بانک نمونه سوالات نه می ها

دیجی کنکور، رسانه دانش آموزان موفق

ورود به بانک نمونه سوال

برای ورود به بانک نمونه سوالات کلیک کنید

نیاز به برنامه ریزی داری؟

آیا می دونستی؟

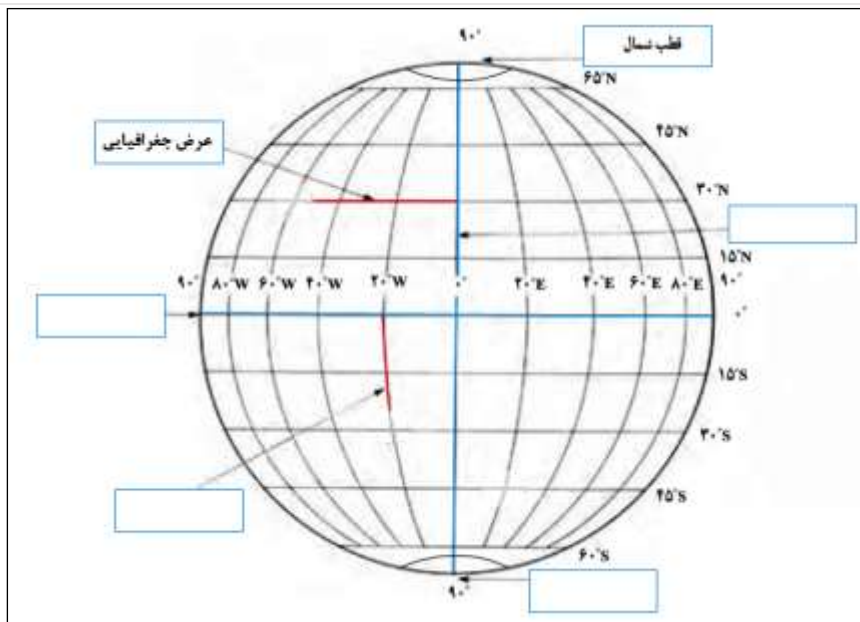
دیجی کنکور ناشر محبوب ترین و دقیق ترین برنامه ریزی تحصیلی
ویژه پایه دهم است

۰۲۱-۲۸۴۲۲۴۱۰

نام و نام خانوادگی: مقطع و رشته: شماره داوطلب: تعداد صفحه سؤال:	جمهوری اسلامی ایران اداره ی کل آموزش و پرورش شهر تهران اداره ی آموزش و پرورش شهر تهران منطقه تهران دبیرستان غیردولتی پسرانه / دخترانه	نام درس: نام دبیر: تاریخ امتحان:/...../..... ۱۳ ساعت امتحان:صبح / عصر مدت امتحان: دقیقه
--	--	---

ردیف	سوالات	بازم
الف	سوالات صحیح- غلط (۱ تا ۴)	۲
۱	در زمان شاه تهماسب، قزوین پایتخت سلسله صفویه شد.	۰/۵ <input type="checkbox"/> صحیح <input type="checkbox"/> غلط
۲	آخرین پادشاه صفوی، لطفعلی خان بود که از محمود افغان شکست خورد.	۰/۵ <input type="checkbox"/> صحیح <input type="checkbox"/> غلط
۳	منظور از اعتمادالدوله در دوره صفوی همان وزیر بزرگ بود.	۰/۵ <input type="checkbox"/> صحیح <input type="checkbox"/> غلط
۴	پرتغال، اسپانیا، انگلیس و فرانسه جزو پیشگامان استعمار بودند.	۰/۵ <input type="checkbox"/> صحیح <input type="checkbox"/> غلط
ب	سوالات چهارگزینه‌ای (۵ تا ۱۰)	۳
5	کدام سیاره جزء سیارات <u>درونی</u> منظومه خورشیدی است؟	۰/۵
	الف) نپتون <input type="checkbox"/> ب) مشتری <input type="checkbox"/> ج) ناهید <input type="checkbox"/> د) اورانوس <input type="checkbox"/>	
6	این سیاره به تنهایی ۶۰ قمر دارد.	۰/۵
	الف) مریخ <input type="checkbox"/> ب) نپتون <input type="checkbox"/> ج) کیوان <input type="checkbox"/> د) مشتری <input type="checkbox"/>	
7	دانشمندان عمر آن را ۴/۵ میلیارد سال تخمین زده‌اند؟	۰/۵
	الف) زمین <input type="checkbox"/> ب) کیهان <input type="checkbox"/> ج) منظومه خورشیدی <input type="checkbox"/> د) الف و ج <input type="checkbox"/>	
8	این عامل جنبه اقتصادی دارد و به معنای سطح مطلوب زندگی است.	۰/۵
	الف) سواد و آموزش <input type="checkbox"/> ب) متوسط طول عمر <input type="checkbox"/> ج) امید به زندگی <input type="checkbox"/> د) میزان درآمد و رفاه <input type="checkbox"/>	
9	میان دما و ارتفاع در لایه تروپوسفر رابطه‌ی وجود دارد.	۰/۵
	الف) معکوس <input type="checkbox"/> ب) معنادار <input type="checkbox"/> ج) مستقیم <input type="checkbox"/> د) نامنظم <input type="checkbox"/>	
10	این گزینه به فاصله ساحل تا عمق ۲۰۰ متری دریاها و اقیانوس‌ها اشاره دارد.	۰/۵
	الف) فلات قاره <input type="checkbox"/> ب) شیب قاره <input type="checkbox"/> ج) ایوان خشکی <input type="checkbox"/> د) الف و ج <input type="checkbox"/>	
پ	جاخالی (۱۱ تا ۱۴)	۲
۱۱	ستاره خورشید یکی از میلیون‌ها ستاره‌ی است.	۰/۵

۰/۵	مدار استوا یک مدار درجه است.	۱۲															
۰/۵	فاصله هر مکان با نصف النهار مبدا بر حسب درجه، نامیده می شود.	۱۳															
۰/۵	گازی به نام ۲۱ درصد از هواکره را تشکیل می دهد.	۱۴															
۲	سوالات جورکردنی (۱۵) شماره گزینه مرتبط با هر یک از عبارتهای الف، ب، ج و د را مقابل آن بنویسید (یک گزینه اضافی است). الف) حاصل راه یافتن مواد مذاب به خارج از پوسته زمین است. () ب) پایین ترین لایه هواکره که نزدیک به سطح زمین است. () ج) برابر شدن درازی روز و شب در اول بهار و اول پاییز را گویند. () د) از بین بردن کامل جنگل ها در یک ناحیه را گویند. () ۱- تروپوسفر ۲- اعتدالین ۳- کوه های آتشفشانی ۴- اتمسفر ۵- جنگل زدایی	ت ۱۵															
۲	تکمیل نمودار (هر مورد ۰/۵ نمره)	ث															
	<div style="display: flex; justify-content: space-around;"> <div style="text-align: center;"> <p>انواع ناهمواری ها</p> <pre> graph TD A[انواع ناهمواری ها] --> B[شکل U] A --> C[شکل V] B --> D[] C --> E[] </pre> </div> <div style="text-align: center;"> <p>دو معیار برای سنجش مختصات جغرافیایی</p> <pre> graph TD F[دو معیار برای سنجش مختصات جغرافیایی] --> G[] F --> H[] </pre> </div> </div>	۱۶															
۲	تکمیل جدول (هر مورد ۰/۵ نمره)	ج															
	<table border="1" style="width: 100%; border-collapse: collapse;"> <thead> <tr> <th style="width: 20%;">ردیف</th> <th style="width: 60%;">توضیح</th> <th style="width: 20%;">پاسخ</th> </tr> </thead> <tbody> <tr> <td>۱</td> <td>شکل مداری که زمین در حرکتش به دور خورشید می پیماید.</td> <td></td> </tr> <tr> <td>۲</td> <td>انسان را جزو این دسته از عوامل تغییر شکل ناهمواری ها در نظر می گیرند.</td> <td></td> </tr> <tr> <td>۳</td> <td>این ساعت در تعیین زمان باز و بسته شدن ادارات اهمیت دارد.</td> <td></td> </tr> <tr> <td>۴</td> <td>نتیجه ی برخورد دو ورقه به یکدیگر است.</td> <td></td> </tr> </tbody> </table>	ردیف	توضیح	پاسخ	۱	شکل مداری که زمین در حرکتش به دور خورشید می پیماید.		۲	انسان را جزو این دسته از عوامل تغییر شکل ناهمواری ها در نظر می گیرند.		۳	این ساعت در تعیین زمان باز و بسته شدن ادارات اهمیت دارد.		۴	نتیجه ی برخورد دو ورقه به یکدیگر است.		۱۷
ردیف	توضیح	پاسخ															
۱	شکل مداری که زمین در حرکتش به دور خورشید می پیماید.																
۲	انسان را جزو این دسته از عوامل تغییر شکل ناهمواری ها در نظر می گیرند.																
۳	این ساعت در تعیین زمان باز و بسته شدن ادارات اهمیت دارد.																
۴	نتیجه ی برخورد دو ورقه به یکدیگر است.																
۲	تکمیل نقشه (هر مورد ۰/۵ نمره)	چ															
	موارد خواسته شده را داخل کادر مربوطه بنویسید.	۱۸															



۱	<p>چیستان (هر مورد ۰/۵ نمره)</p> <p>الف) من کیستم؟ «مذهب شیعه رو در ایران رسمی کردم و تبریز رو پایتخت حکمرانی خودم قرار دادم».</p> <p>ب) من چیستم؟ «خیلی دوست داری اسم منو بدونی؟ خب خوب دقت کن. من پرسودترین کالای صادراتی دوره شاه عباس اول بودم. چیه نفهمیدی؟ راهنمایی میخای؟ یه جاده قدیمی هم به اسم من نامگذاری شده. بازم نفهمیدی؟ بابا نام خانوادگی یه کرمم هستم؛ اگه باز نفهمیدی دیگه خیلی آغایی!».</p>	ح ۱۹
۲	<p>تکمیل شکل (هر مورد ۰/۵ نمره)</p> <p>با فرض اینکه شکل زیر مربوط به چهار محیط سیاره زمین است، نام هر یک از محیط‌های چهارگانه را داخل کادر مربوطه بنویسید.</p>	خ ۲۰
۲	<p>شامل انسان‌ها، گیاهان و جانوران است. ()</p> <p>تشریحی (۲۱ تا ۲۴)</p>	د
۰/۵	<p>پس از شاه اسماعیل چه کسی به حکومت رسید و کدام شهر را پایتخت قرار داد؟</p>	۲۱

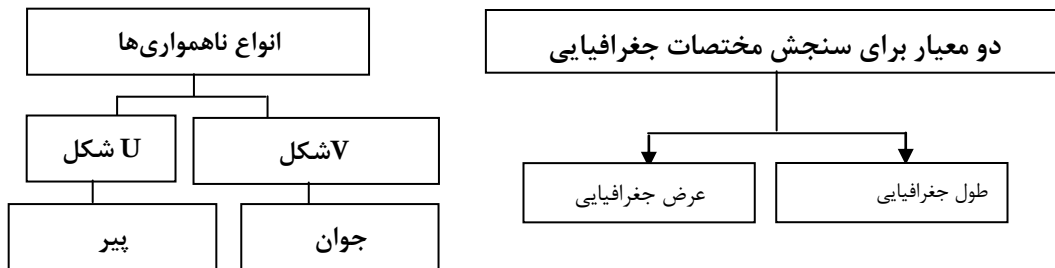
۰/۵	عوامل موثر بر آب و هوای جهان را نام ببرید. (۲ مورد)	۲۲
۰/۵	نام دو عنصر مهم که باعث تنوع زیست بوم‌ها شده‌اند را بنویسید.	۲۳
۰/۵	الف) بسترین وسعت این زیست بوم در قاره آفریقا است. زیست بوم ب) هوای گونه گیاهی مختص این زیست بوم است. زیست بوم	۲۴
۲۰ نمره	پیروز و سربلند باشید! «کریمی»	۲۴ سؤال

نام درس: نام دبیر: تاریخ امتحان:/...../..... ۱۳ ساعت امتحان: صبح / عصر مدت امتحان: دقیقه	جمهوری اسلامی ایران اداره ی کل آموزش و پرورش شهر تهران اداره ی آموزش و پرورش شهر تهران منطقه تهران دبیرستان غیردولتی پسرانه / دخترانه	پاسخ نامه سوالات
--	--	-------------------------

بارم	سوالات	ردیف
۲	سوالات صحیح- غلط (۱ تا ۴)	الف
۰/۵	صحیح	۱
۰/۵	غلط	۲
۰/۵	غلط	۳
۰/۵	صحیح	۴
۳	سوالات چهارگزینه ای (۵ تا ۱۰)	ب
۰/۵	گزینه ج	5
۰/۵	گزینه د	6
۰/۵	گزینه د	7
۰/۵	گزینه د	8
۰/۵	گزینه الف	9
۰/۵	گزینه د	10
۲	جاخالی (۱۱ تا ۱۴)	پ
۰/۵	کهکشان راه شیری	۱۱
۰/۵	صفر	۱۲
۰/۵	طول جغرافیایی	۱۳
۰/۵	اکسیژن	۱۴

- الف) (۳)
- ب) (۱)
- ج) (۲)
- د) (۵)

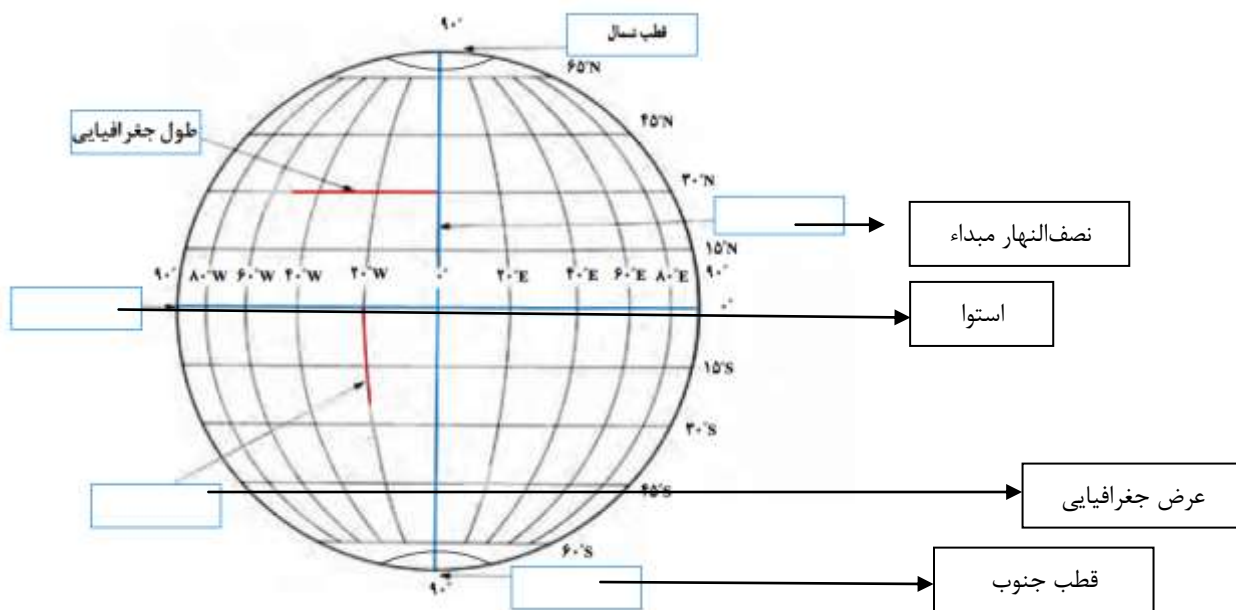
تکمیل نمودار (هر مورد ۰/۵ نمره)



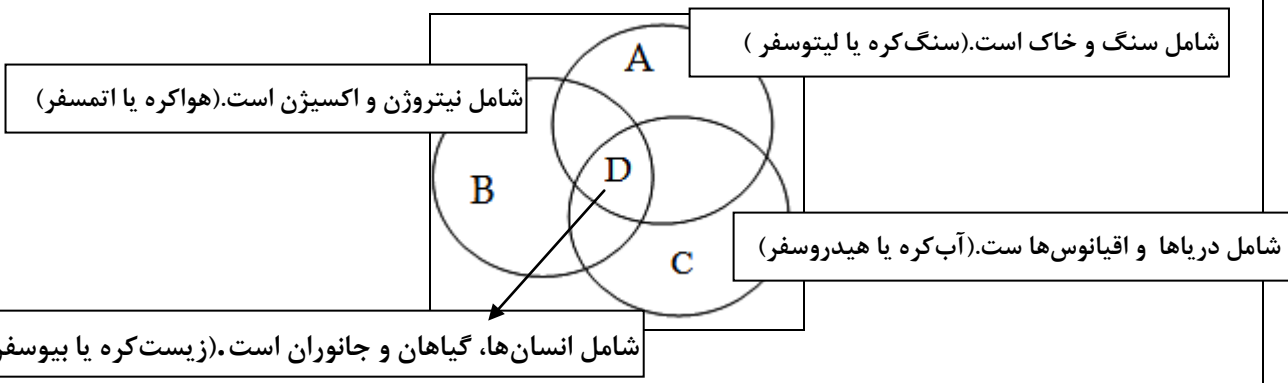


تکمیل جدول (هر مورد ۰/۵ نمره)

ردیف	توضیح	پاسخ
۱	شکل مداری که زمین در حرکتش به دور خورشید می‌پیماید.	بیضی
۲	انسان را جزو این دسته از عوامل تغییر شکل ناهمواری‌ها در نظر می‌گیرند.	بیرونی
۳	این ساعت در تعیین زمان باز و بسته شدن ادارات اهمیت دارد.	ساعت رسمی
۴	نتیجه‌ی برخورد دو ورقه به یکدیگر است.	کوهزایی

تکمیل نقشه (هر مورد ۰/۵ نمره)
موارد خواسته شده را داخل کادر مربوطه بنویسید.



۱	<p>چیستان (هر مورد ۰/۵ نمره)</p> <p>الف) </p> <p>ب) </p>	ح ۱۹
۲	<p>تکمیل شکل (هر مورد ۰/۵ نمره)</p> <p>با فرض اینکه شکل زیر مربوط به چهار محیط سیاره زمین است، نام هر یک از محیط‌های چهارگانه را داخل کادر مربوطه بنویسید.</p>  <p>شامل سنگ و خاک است. (سنگ کره یا لیتوسفر)</p> <p>شامل نیتروژن و اکسیژن است. (هواکره یا اتمسفر)</p> <p>شامل دریاها و اقیانوس‌ها است. (آب کره یا هیدروسفر)</p> <p>شامل انسان‌ها، گیاهان و جانوران است. (زیست کره یا بیوسفر)</p>	خ ۲۰
۲	سوالات تشریحی (۲۱ تا ۲۴)	د
۰/۵	پسرش شاه تهماسب - قزوین	۲۱
۰/۵	<p>۲ مورد از موارد ذیل:</p> <p>۱) زاویه تابش خورشید و عرض جغرافیایی</p> <p>۲) دوری و نزدیکی به اقیانوسها و دریاها</p> <p>۳) ارتفاع از سطح زمین</p> <p>۴) فشار هوا و جریان باد</p>	۲۲
۰/۵	بارش و دما یا آب و هوا	۲۳
۰/۵	<p>الف) ساوان</p> <p>ب) جنگلهای بارانی استوایی</p>	۲۴
<p>پیروز و سربلند باشید! «کریمی»</p>		

نام و نام خانوادگی: مقطع و رشته: نهم شماره داوطلب: تعداد صفحه سؤال: ۲	جمهوری اسلامی ایران اداره ی کل آموزش و پرورش شهر تهران اداره ی آموزش و پرورش شهر تهران منطقه ۱۲ تهران دبیرستان غیردولتی پسرانه حافظ	نام درس: مطالعات نام دبیر: تاریخ: ساعت امتحان: ۸:۰۰ صبح مدت امتحان: ۶۰ دقیقه
--	--	--

شماره	« سؤالات »	نمره
	جای خالی	
۳	<p>۱ جای خالی را در جملات زیر با کلمات مناسب تکمیل کنید:</p> <p>الف) منظور از یک پدیده، یعنی مکان دقیق قرار گرفتن آن روی زمین.</p> <p>ب) منظور از عبارت است از فاصله آن مکان با نصف النهار مبدأ بر حسب درجه.</p> <p>ج) در روز اول تیرماه در نیمکره شمالی انقلاب اتفاق می افتد.</p> <p>د) رنگ در نقشه جلگه ها و دشت های پست را نشان می دهد.</p> <p>ی) درازگودال در نزدیکی کشور فلپین و اقیانوس قرار دارد.</p>	
	چهار گزینه ای	
۲,۵	<p>۱- سلسله افشاریه توسط چه کسی تاسیس گردید؟</p> <p>الف) لطفعلی خان زند ب) عادل شاه ج) نادرشاه د) شاه اسماعیل</p> <p>۲- کدام گزینه در مورد خورشید نادرست است؟</p> <p>الف) قطر خورشید ۱۰۹ برابر قطر سیاره زمین است.</p> <p>ب) جرم خورشید از سیاره زمین ۳۳ هزار برابر بیشتر است.</p> <p>ج) خورشید به دور زمین می چرخد و یک سیاره است.</p> <p>د) خورشید در مرکز منظومه خورشیدی قرار دارد و سرچشمه نور، گرما و انرژی بر روی زمین است.</p> <p>۳- کدام گزینه در رابطه با استفاده صحیح از محیط زیست و منابع طبیعی صحیح است؟</p> <p>الف) استفاده صحیح و خردمندانه از این منابع.</p> <p>ب) برای حفاظت از زیست بومها برخی از جوامع باید با یکدیگر تعامل بین المللی داشته باشند.</p> <p>ج) استفاده حد اکثری از منابع طبیعی.</p> <p>د) منابع را باید به سرعت و بدون تنفس استفاده کرد.</p>	

پاسخ کامل دهید	
۳	چهار مورد از جشن‌ها و آئین‌های دوره صفوی را نام ببرید.
۲	
۴	سیاره زمین از چند محیط تشکیل شده است؟ نام ببرید.
۲	
۵	عوامل موثر بر آب و هوای جهان کدامند؟
۱,۵	
۶	شش مورد از زیست‌بوم‌ها را نام ببرید.
۱,۵	
۷	مهمترین عواملی که باعث از بین رفتن پوشش گیاهی و جانوری زیستگاه‌ها را نام ببرید.
۱,۵	
۸	اهمیت جنگل‌های بارانی استوایی در چیست؟
۱,۵	
۹	انواع مهاجرت را شرح دهید؟
۱,۵	
۱۰	علت رونق تجارت در دوره صفویه چه بود؟
۲	
۱۱	حکومت زندیه توسط چه کسی تاسیس شد و لقب او چه بود؟
۱	

<p>نام درس: مطالعات نهم نام دبیر: تاریخ ساعت امتحان: ۸:۰۰ صبح مدت امتحان: ۶۰ دقیقه</p>	<p>جمهوری اسلامی ایران اداره ی کل آموزش و پرورش شهر تهران اداره ی آموزش و پرورش شهر تهران منطقه ۱۲ تهران دبیرستان غیردولتی پسرانه حافظ</p>	<p>پاسخنامه</p>
<p>ردیف</p>	<p>« سؤالات »</p>	<p>ردیف</p>
	<p>جای خالی</p>	
<p>۳</p>	<p>جای خالی جای خالی را در جملات زیر با کلمات مناسب تکمیل کنید: ۳نمره</p> <p>موقعیت مکانی یک پدیده، یعنی مکان دقیق قرار گرفتن آن روی زمین.</p> <p>طول جغرافیایی عبارت است از فاصله آن مکان با نصف النهار مبدأ بر حسب درجه.</p> <p>در روز اول تیرماه در نیمکره شمالی انقلاب تابستانی اتفاق می افتد.</p> <p>رنگ سبز در نقشه جلگه ها و دشت های پست را نشان می دهد.</p> <p>درازگودال ماریانا در نزدیکی کشور فلیپین و اقیانوس آرام قرار دارد.</p>	<p>۱</p>
	<p>چهار گزینه ای</p>	
<p>۲,۵</p>	<p>۱-سلسله افشاریه توسط چه کسی تاسیس گردید؟</p> <p>(ج) نادرشاه</p> <p>۲-کدام گزینه در مورد خورشید نادرست است؟</p> <p>(ج) خورشید به دور زمین می چرخد و یک سیاره است.</p> <p>۳-کدام گزینه در رابطه با استفاده صحیح از محیط زیست و منابع طبیعی صحیح است؟</p> <p>(الف) استفاده صحیح و خردمندانه از این منابع.</p>	<p>۲</p>

	پاسخ کامل دهید	
۲	نوروز- آبریزگان- فطر و قربان و غدیر و مراسم عاشورا و تاسوعا.	۳
۲	چهار محیط سنگ کره- هواکره- آب کره و زیست کره.	۴
۱,۵	زاویه تابش خورشید و عرض جغرافیایی- دوری و نزدیکی به دریا و اقیانوس ها- ارتفاع از سطح زمین.	۵
۱,۵	توندرا- تایگا- ساوانا- بیابان- مرطوب و علفزارهای معتدل و جنگل های پهن برگ.	۶
۱,۵	ایجاد و گسترش شهرها و روستاها- فعالیت های صنعتی و تولید انبوه کالای کارخانه ها و مصرف گرایی و تولید انبوه زباله.	۷
۱,۵	ریه های تنفسی زمین هستند و مقدار قابل توجهی از اکسیژن زمین را تولید می کنند و پنجاه درصد رطوبت جو را نیز می سازند.	۸
۱,۵	مهاجرت داخلی و خارجی که در درون مرزهای یک کشور صورت می پذیرد و مهاجرت اختیاری و اجباری که بر اساس میل و تصمیم انسانها شکل می پذیرد.	۹
۲	به دلیل نظم و امنیت در سراسر کشور تجارت داخلی و خارجی توسعه یافت و شبکه های وسیعی از راه ها و کاروانسراها ایجاد شدند.	۱۰
۱	نوروز- آبریزگان- فطر و قربان و غدیر و مراسم عاشورا و تاسوعا.	۱۱

نام و نام خانوادگی: مقطع و رشته: دوره اول - نهم شماره داوطلب: تعداد صفحه سؤال: ۳ صفحه	جمهوری اسلامی ایران اداره ی کل آموزش و پرورش شهر تهران اداره ی آموزش و پرورش شهر تهران منطقه۴... تهران دبیرستان دوره اول غیردولتی دخترانه	نام درس: مطالعات اجتماعی نام دبیر: تاریخ امتحان: ساعت امتحان: ۸ صبح مدت امتحان: ۷۵ دقیقه (مهر آموزشگاه)
--	---	--

شماره سؤال	سؤالات	شماره سؤال
۲/۵	<p>جای خالی را با کلمات مناسب پر کنید.</p> <p>الف) دانشمندان عمر زمین و منظومه شمسی را سال تخمین زده‌اند.</p> <p>ب) چهار سیاره نزدیک به خورشید دارای سطح هستند که به آن سیاره‌های درونی می‌گویند.</p> <p>ج) بلندترین فلات جهان، فلات نام دارد.</p> <p>د) دراز گودال ماریانا با ژرفای متر در نزدیک جمع‌الجزایر فیلیپین در اقیانوس قرار دارد.</p> <p>ه) هوا کره از لایه‌های مختلفی تشکیل شده که پایین‌ترین لایه که به سطح زمین نزدیک است نام دارد.</p> <p>ی) مهم‌ترین طرفداران خانقاه شیخ صفی ایل‌های مختلف ترک بودند که به معروف بودند.</p> <p>م) یکی از پرسودترین کالای صادراتی که صادرات آن در انحصار شاه عباس قرار داشت بود.</p> <p>ل) یکی از اهداف استعماری کشور رسیدن به آب‌های آزاد و گرم خلیج فارس بود.</p> <p>ع) یکی از مهم‌ترین اقدامات امیر کبیر بود.</p>	۱
۲/۵	<p>درستی و نادرستی عبارات زیر را مشخص کنید سپس عبارت نادرست را تصحیح کنید.</p> <p>الف) در منظومه شمسی سیاره‌ی زحل ۱۶ قمر دارد.</p> <p>ب) مدار گردش زمین به دور خورشید بیضی شکل است.</p> <p>ج) در اول تیر ماه، در نیم کره شمالی طول روزها از شب‌ها کوتاه‌تر است.</p> <p>د) حدود ۷۱٪ سطح زمین را خشکی تشکیل داده است.</p> <p>ه) اقیانوس‌ها منبع تأمین آب شیرین جهان به طور مستقیم هستند.</p> <p>ی) شاه عباس اول پایتخت خود را از قزوین به اصفهان منتقل کرد.</p>	۲
۲/۵	<p>اصطلاحات و واژگان زیر را توضیح دهید.</p> <p>الف) اعتدالین</p> <p>ب) فلات قاره</p> <p>ج) ریه‌های زمین</p> <p>د) رشد منفی جمعیت</p> <p>ه) امید به زندگی</p>	۳

۱	<p>با توجه به کادر زیر، واژه‌ی مناسب هر عبارت را مشخص کنید.</p> <p>الف) جنگل‌های این منطقه بخش عمده‌ی تولید چوب نرم برای کاغذ است.</p> <p>ب) این زیست بوم از نظر تنوع جانوری بسیار غنی است.</p> <p>ج) درختان شاه‌پسند، نارگیل، هوآ، بامبو از نمونه گیاهان این زیست بوم است.</p> <p>د) این زیست بوم زمستان‌های طولانی با سرمای شدید دارد به طوری که هوا به ۳۴- درجه نیز می‌رسد.</p> <p style="text-align: center; border: 1px solid black; padding: 5px;">بیابان - ساوان - توندرا - جنگل استوایی - تایگا</p>	۴
۸	<p>به سوالات زیر پاسخ کوتاه دهید.</p> <ul style="list-style-type: none"> • الف) منظور از حرکت وضعی زمین چیست؟ • ب) حرکت وضعی چه نتایجی دارد؟ • دو عاملی که در قرن اخیر موجب <u>کاهش</u> چشمگیر مرگ و میر شده است را نام ببرید. • دو عامل از عوامل انسانی که باعث جذب جمعیت در یک منطقه می‌شود را نام ببرید. • ۳ ملاک اصلی توسعه‌ی انسانی در یک کشور را نام ببرید. • برای پی بردن به وضع آموزش در کشورها چه معیارهایی را می‌توان در نظر گرفت؟ (۲ مورد) • دو مورد از اقدامات شاه اسماعیل صفوی را بنویسید. • دو عاملی که باعث شد سلسله صفویه پس از شاه عباس از داشتن شاه لایق محروم بماند را نام ببرید. • چرا در عصر صفویه تجارت خارجی و داخلی پر رونق بود؟ • نام دو تن از عالمان و فیلسوفان عصر صفویه را بنویسید. 	۵

	<ul style="list-style-type: none"> • الف) جنگ چالدران بین چه کشورهایی بود؟ • سرانجام جنگ را توضیح دهید. • شیوه‌ی حکومتی کریم خان زند چگونه بود؟ • موارد عهدنامه‌ی گلستان چه بود؟ • عباس میرزا برای پیشرفت ایران چه کارهایی انجام داد؟ (۲ مورد) 	
۰/۵	با رسم شکل نصف النهار مبدا و نصف النهارها را به طور کامل توضیح دهید.	۶
۱	ظاهر ناهمواری‌های جوان و قدیم را با هم مقایسه کنید.	۷
۱	توضیح دهید چه عواملی باعث از بین رفتن پوشش گیاهی و جانوری زیست‌گاه می‌شود؟ (۴ مورد)	۸
۱	امتیاز تالبوت را توضیح دهید.	۹

نمره به عدد:	نمره به حروف:	امضاء دبیر:
--------------	---------------	-------------

نام درس: مطالعات اجتماعی نهم نام دبیر: تاریخ امتحا ساعت امتحان: ۸ صبح مدت امتحان: ۷۵ دقیقه		جمهوری اسلامی ایران اداره ی کل آموزش و پرورش شهر تهران اداره ی آموزش و پرورش شهر تهران منطقه ...۴... تهران دبیرستان دوره اول غیردولتی دخترانه	پاسخ نامه سوالات
ردیف	راهنمای تصحیح		ردیف
۲/۵	الف: ۴ میلیارد سال ب: سنگی و جامد ج: تبت د: ۱۱۰۰۰ کیلومتر ه: تروپوسفر ی: قزلباش م: ابریشم ل: روسیه ع: تاسیس دارالفنون		۱
۲/۵	الف: غ، مشتری ب: درست ج: غ، بیشتر است د: غ، آب تشکیل داده است ه: غ، غیر مستقیم ی: درست		۲
۲/۵	الف: در اول بهار و اول پاییز که درازی روز و شب برابر می شود را اعتدالین می گویند. ب: جایی که اقیانوسها با خشکی تماس دارند، اغلب ناحیه ای کم عمق با ژرفای کمتر از ۲۰۰ متر دیده می شود که فلات قاره می گویند. ج: سه چهارم تنوع زیستی جهان مربوط به جنگل های استوایی است که به آن ریه های زمین می گویند. که پنجاه درصد رطوبت جو و ۵۰ درصد اکسیژن زمین را تولید می کند. د: اگر در کشوری میزان مولید کمتر از میزان مرگ و میر باشد، به آن رشد منفی جمعیت می گوئیم. ه: یعنی تعداد سالهایی که انتظار می رود کودکی که در آن کشور به دنیا آمده است، عمر کند و زنده بماند.		۳
۱	الف: تایگا ب: ساوان ج: جنگل استوایی د: توندرا		۴
۸	* الف: زمین در هر ۲۴ ساعت یکبار به دور محور خود می چرخد. / ب: پیدایش شب و روز. اختلاف ساعت بین نواحی مختلف * بهبود بهداشت بهبود تغذیه. * ساخت شهرها، سرمایه گذاری، نواحی صنعتی و دارای کارخانه، گردشگری دارای بازارها که برای مردم شغل ایجاد می کنند. نواحی دارای تسهیلات بهتر مانند آب، برق، وسایل حمل و نقل. مکان زیارتی و شهر دانشگاهی. * درآمد و رفاه. امید به زندگی. سواد و آموزش. * میزان باسواد بزرگسالان، میانگین سالهای تحصیل در یک کشور، تعداد معلم به ازای هر دانش آموز. * شکست شروانشاهان و آق قویونلوها. رسمی کردن مذهب شیعه، شکست دادن ازبک ها در خراسان، هم بستگی و اتحاد ایرانیان. * سیاست کشتن و کور کردن شاهزادگان، بازداشتن آنها از آموختن شیوه کشور داری. * ایجاد راه ها و کاروانسراها. یکپارچه بودن سرزمین ایران. وجود نظم و امنیت. * شیخ بهایی، ملاصدرا، میرداماد، علامه مجلسی. * الف: ایران و عثمانی. ب: سربازان شاه اسماعیل شجاعت زیادی نشان دادند اما چون سپاه عثمانی سلاح آتشین مانند توپ و تفنگ داشت در هایت عثمانی پیروز شد. * به جای شاه لقب وکیل الرعایا برای خود برگزید. او با ملایمت و مهربانی با مردم رفتار می کرد، به صلح و اسایش عمومی اهمیت می داد. با شیوه مسالمت آمیز سعی در جلوگیری از ناامنی ها داشت. * فرستادن افرادی به انگلیس برای فراگیری علوم و فنون. دستور داد کتب تاریخ ملل اروپایی به فارسی ترجمه شود.		۵
۰/۵	نصف النهارها نیم دایره های فرضی هستند که از قطب شمال تا قطب جنوب کشیده شده اند. نصف النهار مبدأ زمین را به دو نیمکره مساوی شرقی و غربی تقسیم کرده است.		۶
۱	ظاهر ناهمواری جدید: کوه مرتفع، شیب تند، دره ۷ شکل / ظاهر ناهمواری قدیم: کوه کم ارتفاع، شیب ملایم، دره یو شکل		۷
۱	ایجاد و گسترش شهرها و ساختن پل و ساختمان و سد و جاده/فعالیت ها صنعتی و کارخانه ها/مصرف گرایی و تولید زباله شکار و تجارت اعضای بدن حیوانات		۸
۱	شخصی به اسم ناصرالدین شاه امتیاز انحصاری خرید و فروش توتون و تنباکوی ایران را به مدت پنجاه سال به دست آورد. بر اساس آن کسی نمی توانست محصول خود را به کسی غیر از تالبوت بفروشد. در مقابل تالبوت سالیانه ۱۵۰۰۰ لیر به همراه یک چهارم سود سالیانه به ناصرالدین شاه می داد.		۹

« ورود به سایت

بانک نمونه سوالات
دیجی کنکور



وبسایت دیجی کنکور بزرگترین مرجع جزوات از ابتدایی تا کنکور

دیجی کنکور

رسانه دانش آموزان موفق

DigiKonkur.com

کنکوری ها
یازدهمی ها
دهمی ها



کانال تلگرام دیجی کنکور

یک کانال جامع به جای همه اپ ها و کانال های دیگر

دوره های مشاوره ای

برنامه ریزی روزانه

نمونه سوالات امتحانی

فیلم های کنکوری

پادکست های انگیزشی

جزوات درسی

و هر چیزی که نیاز داری و نداری ...
همه خدمات این کانال همیشه رایگان است

برای عضویت اینجا کلیک کنید



DGKonkur

