



بانک نمونه سوالات ششمی ها

دیجی کنکور، رسانه دانش آموزان موفق

ورود به بانک نمونه سوال

برای ورود به بانک نمونه سوالات کلیک کنید



نیاز به برنامه ریزی داری؟

آیا می دونستی؟

دیجی کنکور ناشر محبوب ترین و دقیق ترین برنامه ریزی تحصیلی
ویژه پایه دهم است

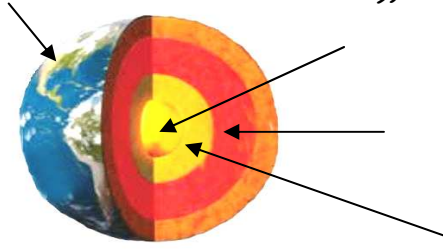
۰۲۱-۲۸۴۲۲۴۱۰

نام خانوادگی:	بسمه تعالی جمهوری اسلامی ایران وزارت آموزش و پرورش	نام درس: علوم تجربی
شماره دفتر:		نام آموزگار:
پایه تحصیلی: ششم ابتدایی		تاریخ آزمون:
آزمون دی ماه		مدت آزمون: ۴۵ دقیقه
		روز آزمون:

ردیف	ملاک
۱	<p>پاسخ درست را با علامت (X) مشخص کنید:</p> <p>۱_ برای این بدن رنگ زرد چوب از چه ماده ای استفاده می کنند؟</p> <p>الف) اسید کلریدریک <input type="checkbox"/> ب) آب اکسیژنه <input type="checkbox"/> ج) نشاسته <input type="checkbox"/> د) پتاسیم پرمنگنات <input type="checkbox"/></p> <p>۲_ کدام یک از موارد زیر طبیعی نیست.</p> <p>الف) لاستیک <input type="checkbox"/> ب) پوکه معدنی <input type="checkbox"/> ج) چوب <input type="checkbox"/> د) سنگ <input type="checkbox"/></p> <p>۳_ در کدام وسیله از آلومینیوم استفاده می گردد؟</p> <p>الف) بدنه اتومبیل <input type="checkbox"/> ب) حلقه انگشتری <input type="checkbox"/> ج) روکش قرص <input type="checkbox"/> د) ساور <input type="checkbox"/></p> <p>۴_ تغییر فیزیکی و تغییر شیمیایی است.</p> <p>الف) سوزاندن چوب-ذوب یخ <input type="checkbox"/> ب) بریدن چوب-خمیر کردن چوب پس از اضافه کردن مواد <input type="checkbox"/></p> <p>ج) زنگ زدن آهن - زرد شدن برگ درختان <input type="checkbox"/> د) خمیر کردن چوب-بریدن چوب <input type="checkbox"/></p> <p>۵_ کدام قسمت درخت برای تهیه کاغذ به کار می رود؟</p> <p>الف) تنه درخت <input type="checkbox"/> ب) پوسته درخت <input type="checkbox"/> ج) برگ ها <input type="checkbox"/> د) ریشه <input type="checkbox"/></p>
۲	<p>در جاهای خالی کلمه های مناسب بنویسید:</p> <p>* امواج لرزه ای درون زمین از سنگهای متراکم و از سنگ های کم تراکم عبور می کنند.</p> <p>* عامل کشش، رانش و حرکت اجسام است.</p> <p>* یکی از راه های حفظ منابع طبیعی است.</p> <p>* واحد اندازه گیری زمین لرزه است.</p> <p>* ضخامت پوسته زمین در کنارسواحل از سایر نقاط است .</p>
۳	<p>« درست » یا « نادرست » بودن عبارات های زیر را با علامت (X) مشخص کنید.</p> <p>* در جاهایی که پوسته زمین دارای شکستگی است احتمال زمین لرزه بیشتر است <input type="radio"/> درست <input type="radio"/> نادرست</p> <p>* اسید های قوی دارای عدد پی اچ بالایی هستند . <input type="radio"/> درست <input type="radio"/> نادرست</p> <p>* فلزها رسانای خوبی برای جریان برق هستند. <input type="radio"/> درست <input type="radio"/> نادرست</p> <p>* نیرو همواره در جهت حرکت جسم به آن وارد می شود. <input type="radio"/> درست <input type="radio"/> نادرست</p>
۴	<p>چرا کاغذهای زیر قابل بازیافت نیستند؟</p> <div style="display: flex; justify-content: space-around;">   </div>

۵ حرکت قطعات سنگ کره بر روی خمیر کره باعث پیدایش کدام پدیده می شود؟ (۳ مورد)

۶ الف_ هنگام استفاده از جوهر نمک در خانه چه نکاتی را باید رعایت کرد؟ (۲ مورد)



ب_ جنس و نام لایه های درونی زمین را روی تصویر مشخص کنید.

۷ الف_ اسید ها چند دسته اند؟ نام برده و برای هر یک مثال بزنید.

ب_ چگونه می توان نیروی اصطکاک را کاهش داد؟ ۲ روش



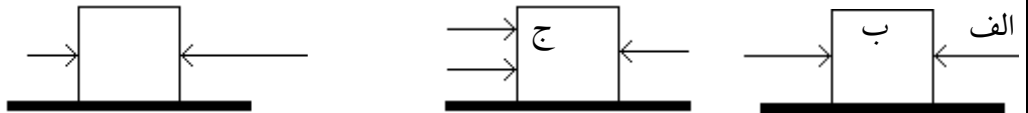
جدول زیر را کامل کنید.

ضررهای آتشفشان (۲ مورد)	فواید آتشفشان (۲ مورد)

۹ الف_ دو تفاوت وزن با جرم را بنویسید.

ب_ نیروهای غیر تماسی را تعریف کرده و ۲ مثال بزنید.

۱۰ در کدام یک از شکل های زیر جسم حرکت نمی کند؟ چرا؟ (هر فلش نمایانگر اعمال نیرو است)



۱۱ به یک جعبه ۲ نیرو وارد می شود. در چه حالتی نیروی خالص بیشتری به جعبه وارد شده و جعبه سریع تر شروع به حرکت می کند؟ توضیح داده و در شکل نشان دهید.



۱۲ افزودن مواد زیر به خمیر کاغذ باعث:

خمیر کاغذ +		
نشاسته	گچ	پلاستیک

باز خورد :

خیلی خوب خوب قابل قبول نیاز به آموزش

« ورود به سایت

بانک نمونه سوالات
دیجی کنکور



وبسایت دیجی کنکور بزرگترین مرجع جزوات از ابتدایی تا کنکور

دیجی کنکور

رسانه دانش آموزان موفق

DigiKonkur.com

کنکوری ها
یازدهمی ها
دهمی ها



کانال تلگرام دیجی کنکور

یک کانال جامع به جای همه اپ ها و کانال های دیگر

دوره های مشاوره ای

برنامه ریزی روزانه

نمونه سوالات امتحانی

فیلم های کنکوری

پادکست های انگیزشی

جزوات درسی

و هر چیزی که نیاز داری و نداری ...
همه خدمات این کانال همیشه رایگان است

برای عضویت اینجا کلیک کنید



DGKonkur

