



بانک نمونه سوالات سوم

دیجی کنکور، رسانه دانش آموزان موفق

ورود به بانک نمونه سوال

برای ورود به بانک نمونه سوالات کلیک کنید

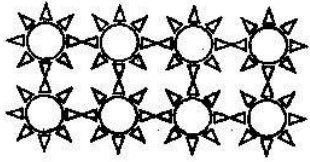
نیاز به برنامه ریزی داری؟

آیا می دونستی؟


دیجی کنکور ناشر محبوب ترین و دقیق ترین برنامه ریزی تحصیلی
ویژه پایه دهم است

۰۲۱-۲۸۴۲۲۴۱۰


۱) هر شکل را دو نوع دسته بندی کن و برای آن ضرب بنویس.




..... x =



..... x =

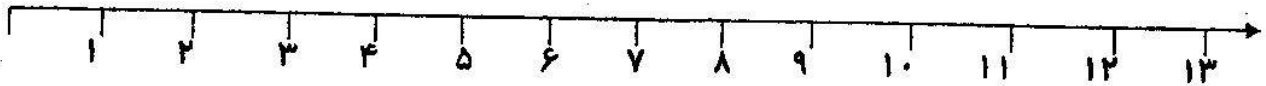


..... x =



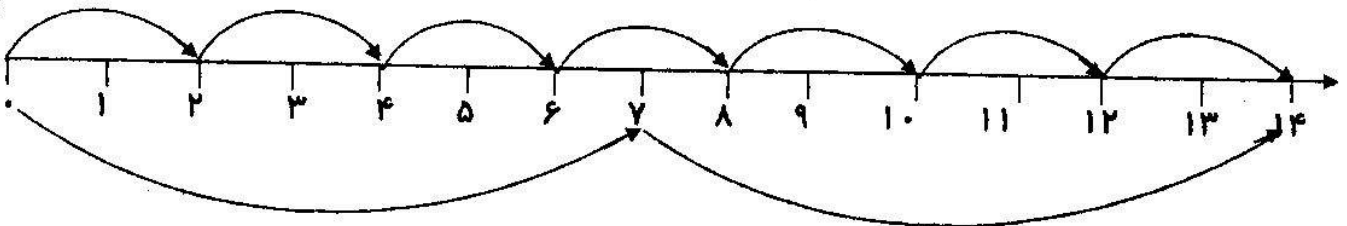
..... x =

۲) تساوی $3 \times 4 = 4 \times 3$ را روی محور نشان بده.



۳) شعاع دایره ۸ سانتی متر است، قطر این دایره چند سانتی متر است؟

۴) تساوی ضرب را به کمک محور ها بنویس.



..... x = x

$2 \times 6 = 6 \times 2$



۵) جدول ضرب را کامل کن.

x	۴	۵	۶	۷	۸	۹
۳						
۵						
۶						

۶) حاصل عبارت زیر را بدست آورید.

$(3 \times 8) + (6 \times 8) = \dots\dots\dots$ $(5 \times 4) + (3 \times 4) = \dots\dots\dots$

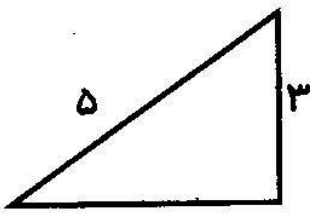
$(5 + 2) \times (4 - 3) = \dots\dots\dots$ $(5 - 1) \times (6 - 3) = \dots\dots\dots$

۷) جاهای خالی را کامل کن.

- ❖ حاصل ضرب هر عدد در یک برابر است با
- ❖ حاصل ضرب هر عدد در صفر برابر است با
- ❖ به جواب ضرب می گویند.
- ❖ هر دایره مرکز، شعاع و قطر دارد.
- ❖ قطر هر دایره شعاع آن است.

۸) علی ۳ شاخه گل دارد و هر شاخه ۲ گل و هر گل ۵ گلبرگ علی روی هم چند گلبرگ دارد؟

۹) برای « 4×7 » یک مسئله بنویس

نام:	به نام خداوند بخشنده و مهربان	تاریخ:
نام خانوادگی:	امتحان هماهنگ پایه سوم	زمان:
نام پدر:		سطح B
۱	عددهای زیر را به رقم و حروف بنویس. پنج هزار و دویست و هفتاد و دو (.....) ۳۴۵۹ (.....)	
۲	کوچک ترین عدد سه رقمی (.....) و بزرگ ترین عدد چهار رقمی (.....) است.	
۳	بارقم های (۳-۸-۴-۹) بزرگ ترین و کوچک ترین عدد چهار رقمی را بنویس. بزرگ ترین: کوچک ترین:	
۴	جاهای خالی را کامل کن. الف) ۳ کیلومتر و ۴۰۰ متر چند متر است؟ ب) ۴۷۰۰ کیلوگرم = کیلوگرم و گرم.	
۵	محیط شکل زیر را حساب کن.  سانتی متر	
۶	احمد روزی ۵ آیه از قرآن می خواند. احمد در ۶ روز چند آیه از قرآن می خواند؟	
۷	ضرب و تقسیم زیر را انجام بده. $۱۴ \div ۷ =$ $۵ \times ۶ =$ $۹ \times ۷ =$ $۳۸ \div ۶ =$	
۸	جمع و تفریق زیر را انجام بده. $\begin{array}{r} ۴۷۱۴ \\ - ۲۳۸۶ \\ \hline \end{array}$ $\begin{array}{r} ۳۴۷۴ \\ + ۲۳۹۷ \\ \hline \end{array}$	

<p>حاصل ضرب هر عدد در صفر می شود .</p>	
<p>مساحت شکل زیر را حساب کن</p> <div style="display: flex; align-items: center; justify-content: center;"> <div style="border: 1px solid black; width: 150px; height: 50px; margin-right: 10px;"></div> <div style="text-align: center;"> <p>۲</p> <p>۴</p> </div> </div> <p>..... سانتی متر مربع</p>	۹
<p>ضرب های زیر را انجام بده.</p> <div style="display: flex; justify-content: space-around; align-items: center;"> <div style="text-align: center;"> $\begin{array}{r} 53 \\ \times 4 \\ \hline \end{array}$ </div> <div style="text-align: center;"> $\begin{array}{r} 73 \\ \times 6 \\ \hline \end{array}$ </div> </div>	۱۰

به نظرم سوالات آسان متوسط سخت بود.

به نام خدا
نام و نام خانوادگی:

دبستان امام علی (ع) ۲
کلاس سوم ۱

- امتحان ریاضی تا صفحه

۱- حاصل ضرب ها را بنویس.

$$80 \times 10 =$$
$$1 \times 7 =$$

$$50 \times 2 \times 10 =$$
$$0 \times 25 =$$

$$18 \times \dots = 0$$

۲- حاصل ضرب هر عدد در صفر می شود و حاصل ضرب هر عدد در یک می شود.

۳- زهرا آبیوه های مورد علاقه ی دوستانش را در جدولی نوشته. برای این جدول نمودار رسم کن (دایره ای یا ستونی)

آبیوه	سیب	پرتقال	کیوی	انگور
تعداد	۱	۳	۲	۲

۴- یک سکه را می اندازیم. چند حالت برای سکه اتقاق می افتد؟

۵- عددی را دو برابر کردیم سپس حاصل را با ۱۵ جمع کردیم، جواب ۲۵ شد. آن عدد را پیدا کنید. (روش حدس و آزمایش)

$$(\square + \square) + 15 =$$


۶- حاصل عبارت ها را پیدا کن

$$(7-5) \times (8-3) = \dots \times \dots = \dots \quad (8 \div 4) + (7 \times 5) = \dots + \dots = \dots$$

۷- جواب را پیدا کن.



مساحت =



محیط =

۸- رسم کن.

خط
پاره خط
نیم خط

$$2 \times 6 = 6 \times 2$$

۹- روی محور نشان بده.

۱۰- ضرب $4 \times 3 = 12$ را نشان بده.

با محور

با شکل

با شمارش ۳ تا ۳ تا

رسم مستطیل

۱۱- جواب تقسیم ها را بنویس.

$$12 \div 6 = \square$$

$$81 \div 9 = \square$$

$$63 \div 7 = \square$$

$$36 \div 4 = \square$$

نام:	نام خانوادگی:	آزمون	نوم	ریاضی سوم	آموزشگاه امام علی (ع)
------	---------------	-------	-----	-----------	-----------------------

۱) امروز شنبه و اولین روز ماه است. تا آخر این ماه شنبه ها چه روزهایی از ماه هستند؟

۲) قطار تهران - اصفهان هر روز ساعت ۲۲ از تهران حرکت می کند. حرکت این قطار ساعت پوشش می دهد؟ (با راه حل)

۳) عدد ----- یعنی ۳ یکی ۴ ده تایی صفر صدتایی ۵ هزار تایی

عدد ۵۳۲۱ یعنی ----- یکی ----- ده تایی ----- صدتایی ----- هزار تایی

۴) یک دلار کشوری ۱۲۰۰ تومان شده است. ۳ دلار این کشور چند تومان می شود؟

۵) ۹ کیلومتر و ۲۰۰ متر یعنی ----- متر
 ۵۰۰ گرم برابر ----- کیلو گرم است.
 ۸ سانتی متر ----- میلی متر است.


۶) واحد بعد از عدد ۳ را نشان دهید.



۷) برای دو کسر مقابل یک شکل بکشید و هر دو را در یک شکل نشان دهید.

۸) تساوی ضرب روبرو را در محور نشان دهید



<p>۹. مجید روزی ۲ صفحه قرآن می خواند. پس از ۵ روز چند صفحه قرآن خوانده است؟</p>	۹
<p>۱۰. در الگوی شمارشی ۹ تا ۹۰ عدد بعد از ۵۴ چند است؟</p>	۱۰
<p>۱۱. برای شکل داده شده دو ضرب و یک تقسیم بنویسید.</p>  <p>.....</p>	۱۱

نیاز به تلاش	قابل قبول	خوب	خیلی خوب	انتظارات آموزشی
				- الگوهای عددی را به درستی ادامه می دهد.
				- مسئله را با مفهوم ساعت به خوبی درک می کند.
				- عدد نویسی را میداند.
				- واحد پول را می تواند تبدیل کند.
				- واحد ها را به خوبی تبدیل می کند.
				- به محور اعداد تسلط دارد.
				- برای کسر های مساوی شکل رسم می کند.
				- مسئله با مفهوم ضرب را حل می کند.
				- برای شکل دو ضرب و یک تقسیم می نویسد.

« ورود به سایت

بانک گام به گام
دیجی کنکور



وبسایت دیجی کنکور بزرگترین مرجع جزوات از ابتدایی تا کنکور

دیجی کنکور

رسانه دانش آموزان موفق

DigiKonkur.com

کنکوری ها
یازدهمی ها
دهمی ها



کانال تلگرام دیجی کنکور

یک کانال جامع به جای همه اپ ها و کانال های دیگر

دوره های مشاوره ای

برنامه ریزی روزانه

نمونه سوالات امتحانی

فیلم های کنکوری

پادکست های انگیزشی

جزوات درسی

و هر چیزی که نیاز داری و نداری ...
همه خدمات این کانال همیشه رایگان است

برای عضویت اینجا کلیک کنید



DGKonkur

