



بانک نمونه سوالات پنجم

دیجی کنکور، رسانه دانش آموزان موفق

ورود به بانک نمونه سوالات

برای ورود به بانک نمونه سوالات کلیک کنید

نیاز به برنامه ریزی داری؟

آیا می دونستی؟

دیجی کنکور ناشر محبوب ترین و دقیق ترین برنامه ریزی تحصیلی
ویژه پایه دهم است

۰۲۱-۲۸۴۲۲۴۱۰

بسمه تعالی

سال تحصیلی

نام :	نام خانوادگی :	نام آموزگار :	کلاس : پنجم
زمان :	تاریخ :	آزمون درس :	اجتماعی

الف	پاسخ صحیح را علامت بزنید.
۱	مهمترین راه ارتباط انسان ها با هم چیست؟ (الف) خوب گوش کردن <input type="checkbox"/> (ب) گفتگو <input type="checkbox"/> (ج) خوب صحبت کردن <input type="checkbox"/> (د) ابراز احساسات <input type="checkbox"/>
۲	به مجموعه افرادی که در یک جا زندگی می کنند، ----- می گویند. (الف) گروه <input type="checkbox"/> (ب) جمعیت <input type="checkbox"/> (ج) ملت <input type="checkbox"/> (د) جامعه <input type="checkbox"/>
۳	کره زمین بیش از ----- نفر جمعیت دارد. (الف) ۱ میلیارد <input type="checkbox"/> (ب) ۱۰ میلیارد <input type="checkbox"/> (ج) ۷ میلیارد <input type="checkbox"/> (د) ۱۲ میلیارد <input type="checkbox"/>
۴	کدام مؤسسه در هنگام وقوع سیل و زلزله به مردم آسیب دیده کمک می کند؟ (الف) سازمان انتقال خون <input type="checkbox"/> (ب) جمعیت هلال احمر <input type="checkbox"/> (ج) سازمان بهداشت و درمان <input type="checkbox"/> (د) راهنمایی و رانندگی <input type="checkbox"/>
۵	کدام مورد در گروه صنایع مادر قرار نمی گیرد؟ (الف) فولاد <input type="checkbox"/> (ب) اتومبیل سازی <input type="checkbox"/> (ج) پتروشیمی <input type="checkbox"/> (د) ذوب آهن <input type="checkbox"/>
۶	بخش عمده صادرات و واردات کشور ما از چه طریق و با چه وسیله ای صورت می گیرد؟ (الف) بندر ، کشتی <input type="checkbox"/> (ب) آسمان ، هواپیما <input type="checkbox"/> (ج) زمین ، راه آهن <input type="checkbox"/> (د) جاده ، کامیون <input type="checkbox"/>
۷	چند کشور در همسایگی ایران هستند؟ (الف) ۵ <input type="checkbox"/> (ب) ۷ <input type="checkbox"/> (ج) ۸ <input type="checkbox"/> (د) ۹ <input type="checkbox"/>

۸	کدام حکومت ها پیرو مذهب شیعه بودند؟ الف) آل بویه ، سامانیان <input type="checkbox"/> ب) علویان ، آل بویه <input type="checkbox"/> ج) طاهریان ، صفاریان <input type="checkbox"/> د) علویان ، سامانیان <input type="checkbox"/>
۹	نتیجه حرکت انتقالی زمین چیست؟ الف) بارش برف و باران <input type="checkbox"/> ب) پدید آمدن روز و شب <input type="checkbox"/> ج) پدید آمدن فصل ها <input type="checkbox"/> د) بوجود آمدن مدارها <input type="checkbox"/>
۱۰	اسکیموها غذایشان را از چه راهی به دست می آورند؟ الف) دامپروری <input type="checkbox"/> ب) شکار <input type="checkbox"/> ج) جمع آوری میوه ها <input type="checkbox"/> د) کشاورزی <input type="checkbox"/>
۱۱	شورای نگهبان جزء کدام یک از قوای سه گانه است؟ الف) قوه مجریه <input type="checkbox"/> ب) قوه مقننه <input type="checkbox"/> ج) قوه قضائیه <input type="checkbox"/> د) رهبری <input type="checkbox"/>
۱۲	چهل سال بعد از حمله ی چنگیز چه کسی به ایران حمله کرد؟ الف) تیموریان <input type="checkbox"/> ب) هلاکوخان <input type="checkbox"/> ج) غایرخان <input type="checkbox"/> د) شاهرخ خان <input type="checkbox"/>
۱۳	مواد اولیه صنایع پتروشیمی چیست؟ الف) فولاد و آهن <input type="checkbox"/> ب) گاز و زغال سنگ <input type="checkbox"/> ج) نفت و گاز <input type="checkbox"/> د) سنگ آهن <input type="checkbox"/>
ب	جاهای خالی را با کلمات مناسب پر کنید.
۱	هر گفتگو دو طرف دارد : ----- و -----
۲	شهر ----- در جمهوری آذربایجان و ایران همنام هستند.
۳	خورشید هرروز از ----- طلوع و از ----- غروب می کند.
۴	عقربه قبله نما سمت ----- را نشان می دهد.
۵	رفتار و کردار ----- بهترین سرمشق و الگو برای ماست.
۶	نخستین کار پیامبر در شهر ----- ساختن مسجد و سپس ----- بود.
۷	از جمله کسانی که در مقابل مغول ها ایستادگی کرد، ----- پسر سلطان محمد بود.
۸	واقعه ----- خاندان بنی امیه را رسوا کرد و ظلم و فساد آن ها را آشکار کرد.
۹	قوه مجریه همان ----- است.
۱۰	خط استوا از ----- آسیا می گذرد.

ج	جملات درست و نادرست را با علامت (X) مشخص کنید.	درست	نادرست
۱	آلوده کردن آب و مصرف نادرست آن باعث به هدر رفتن آب می شود.	<input type="radio"/>	<input type="radio"/>
۲	از آثار تاریخی دوره غزنویان مناره ای در غزنین در کشور افغانستان می باشد.	<input type="radio"/>	<input type="radio"/>
۳	کشور ترکمنستان به دریای عمان راه ندارد.	<input type="radio"/>	<input type="radio"/>
۴	ابوسفیان سردسته مخالفان در مدینه بود.	<input type="radio"/>	<input type="radio"/>

د مفاهیم زیر را تعریف کنید.

حرکت چرخشی :
همدلی :
اقیانوس :

ه پاسخ کامل دهید.

۱ نتیجه حمله مغول ها به ایران چه بود؟ (۳ مورد)

۲ چرا ابومسلم خراسانی توانست مردم ایران را با خود همراه کند؟

۳ چرا قیام هایی بر ضد بنی امیه صورت گرفت؟

۴ سه قاره ای که به هم نزدیک ترند را نام ببرید.

و جدول زیر را کامل کنید.

کشور	عراق	_____	جمهوری آذربایجان	_____
پایتخت	_____	عشق آباد	_____	اسلام آباد

با توجه به نقشه به سؤالات زیر پاسخ دهید و روی نقشه مشخص کنید.



۱- همسایگان شرقی ایران

۲- رود مرزی که مرز سه کشور همسایه با ایران را مشخص می کند.

۳- همسایگان غربی ایران

۴- همسایه شمال شرقی ایران

ارزیابی	خیلی خوب	خوب	قابل قبول	نیاز به تلاش بیشتر
عملکرد دانش آموز				

بسمه تعالی

نام و نام خانوادگی:

تاریخ:

موضوع: اجتماعی

پایه: پنجم



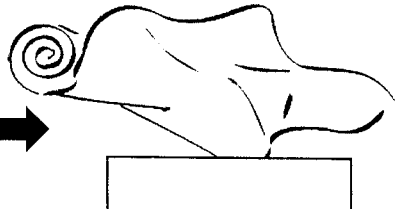
شماره آزمون: پایانی نیمسال دوم

۱	به چه دلیل خداوند ((ترس بجا)) را در وجود جانداران قرار داده است؟ الف) مقابله با خطر <input type="checkbox"/> (ب) داشتن مهارت <input type="checkbox"/> (ج) یاد گرفتن نظم <input type="checkbox"/> (د) محافظت از گرما <input type="checkbox"/>
۲	افراد پس از رسیدن به چه سنی می توانند خون خود را اهدا کنند؟ الف) ۹ سالگی <input type="checkbox"/> (ب) ۱۸ سالگی <input type="checkbox"/> (ج) ۱۵ سالگی <input type="checkbox"/> (د) ۲۰ سالگی <input type="checkbox"/>
۳	اولین نکته ای که اعضای هر گروه باید به آن توجه کنند کدام است؟ الف) روابط خوب <input type="checkbox"/> (ب) انجام وظایف خود <input type="checkbox"/> (ج) مشورت کردن <input type="checkbox"/> (د) نظم و مقررات <input type="checkbox"/>
۴	کدام یک از عوامل جذب کننده ی جمعیت نیست؟ الف) بیمارستان مجهز <input type="checkbox"/> (ب) دانشگاه <input type="checkbox"/> (ج) کمبود در آمد <input type="checkbox"/> (د) فروشگاه های بزرگ <input type="checkbox"/>
۵	مهم ترین منبع آب شیرین کدام است؟ الف) قنات <input type="checkbox"/> (ب) دریا <input type="checkbox"/> (ج) چاه <input type="checkbox"/> (د) رود <input type="checkbox"/>
۶	کدام مورد از صادرات استان گیلان نیست؟ الف) پسته <input type="checkbox"/> (ب) چای <input type="checkbox"/> (ج) برنج <input type="checkbox"/> (د) زیتون <input type="checkbox"/>
۷	کدام یک از صادرات ایران نیست؟ الف) قالی <input type="checkbox"/> (ب) نفت <input type="checkbox"/> (ج) خشکبار <input type="checkbox"/> (د) ماشین آلات <input type="checkbox"/>
۸	به نتیجه ی حرکت چرخشی زمین چه می گویند؟ الف) هفته <input type="checkbox"/> (ب) سال <input type="checkbox"/> (ج) ماه <input type="checkbox"/> (د) شبانه روز <input type="checkbox"/>
۹	در قانون اساسی هر کشور، چه چیزی مشخص شده است؟ الف) نوع شغل ها <input type="checkbox"/> (ب) نوع حکومت <input type="checkbox"/> (ج) وظایف دولت <input type="checkbox"/> (د) روش اداره ی کشور <input type="checkbox"/>
۱۰	جاهای خالی را پر کنیدهر فرد محدوده ای است که هیچکس نباید بدون اجازه و رضایت وارد آن شود فرمانده گروههای ناراضی علیه بنی امیه بود مهمترین قانون هر کشور است از صنایع مصرفی نمیباشد تغییر فصل ها نتیجه حرکت زمین است . به برگزیده شدن حضرت محمد(ص) به پیامبری از جانب خداوند می گویند . حرم مطهر حضرت علی (ع) در شهر قرار دارد . نخستین کار پیامبر (ص) در شهر مدینه و سپس تشکیل حکومت اسلامی بود . - فرمانده گروه های ناراضی علیه بنی امیه..... بود .
۱۱	مفاهیم زیر را تعریف کنید حرکت چرخشی _____ همدلی _____



دو نمونه از موسساتی که به افراد نیازمند کمک می‌کنند تا از رنج آنها کاسته شود را نام ببرید.	۱۲
چرا میزان تبخیر و آلودگی آب قنات بسیار کم است؟	۱۳
به چه صنایعی، صنایع مادر می‌گویند؟ توضیح دهید. ۲ نمونه را نام ببرید.	۱۴
دلایل قیام امام حسین را بنویسید	۱۵
کدام قاره‌ها دیرتر کشف شدند؟ چه عاملی باعث کشف این قاره شد؟	۱۶
علت شکل‌گیری قیام‌های زیاد علیه حکومت بنی‌امیه چه بود؟	۱۷
چرانواحی کوهپایه‌ای تعداد زیادی شهر و روستا به وجود آمده‌اند؟	۱۸
پراکندگی کارخانه‌های ماشین‌سازی و تجهیزات در کدام شهرهای ایران بیشتر است؟	۱۹
مهمترین کارهای پیامبر در شهر مدینه چه بود؟	۲۰
در هر مورد مشخص کنید که عبارت داده شده در مورد چه کسی است؟ (۱) در زمان این پادشاه مغول‌ها به ایران حمله کردند..... (۲) یکی از وزیران دوره ی سلجوقی را بنویسید..... (۳) اودر چند جنگ سپاه بی‌امیه را شکست داد و خاندان بنی‌عباس به حکومت رسیدند.....	۲۱


نام و نام خانوادگی: آزمون مطالعات اجتماعی پنجم

۱	<p>اولین کسانی که با کندن قنات از آب های زیر زمینی استفاده کردند چه کسانی بودند؟ الف) ایرانیان <input type="checkbox"/> ب) مصریان <input type="checkbox"/> ج) عرب های صحرا نشین <input type="checkbox"/> د) چینی ها <input type="checkbox"/></p>
۲	<p>کوچک ترین کشور همسایه ی ایران کدام است؟ الف) افغانستان <input type="checkbox"/> ب) ارمنستان <input type="checkbox"/> ج) عراق <input type="checkbox"/> د) پاکستان <input type="checkbox"/></p>
۳	<p>نمایندگان مجلس شورای اسلامی هر چند سال یک بار انتخاب می شوند؟ الف) هر چهار سال یک بار <input type="checkbox"/> ب) هر پنج سال یک بار <input type="checkbox"/> ج) دائمی هستند <input type="checkbox"/> د) هر دو سال یک بار <input type="checkbox"/></p>
۴	<p>کدام مورد از وظایف دولت نیست؟ الف) اجرای قوانین <input type="checkbox"/> ب) تأمین وسایل رفاه و آسایش مردم <input type="checkbox"/> ج) دفاع از کشور در برابر حمله ی دشمن <input type="checkbox"/> د) رسیدگی به شکایت ها و اختلافات مردم <input type="checkbox"/></p>
۵	<p>عبارت های زیر را کامل کنید. مهم ترین راه ارتباط انسان ها با یکدیگر است . محدوده ای که هیچ کس نباید بدون اجازه و رضایت شما وارد آن شود..... نام دارد. یکی از دلایل افزایش جمعیت در یک ناحیه ، مردم از نواحی دیگر به آن جاست. به وسایلی که مردم و کالا ها را جابه جا می کنند می گویند.</p>
۶	<p>هر پاسخ را به عبارت مربوط به آن وصل کن . خرید و فروش در داخل کشور یا با کشورهای دیگر را می گویند. راه هایی که مسیر رفت و برگشت با مانع هایی از هم جدا شده اند. تغییراتی که کارگران در کارخانه ها روی مواد اولیه می دهند. مواد و کالاهایی که ما به کشور های دیگر می فروشیم .</p>
۷	<p>کلمه های مقابل را در محل مناسب بنویس . (کارخانه - کالا - ماده ی اولیه)</p> <div style="display: flex; align-items: center; justify-content: center;"> <div style="text-align: center; margin-right: 20px;">  </div> <div style="font-size: 2em; margin-right: 20px;">→</div> <div style="text-align: center; margin-right: 20px;">  </div> <div style="font-size: 2em; margin-right: 20px;">→</div> <div style="text-align: center;">  </div> </div>

- آزاد راه
- صنعت
- واردات
- صادرات
- بازرگانی


جاهای خالی را پر کن .

۸





انواع ترس

ترس از آمپول و دکتر



نام سازمان های زیر و وظیفه ی آن را بنویس .

۹





نام سازمان :

نام سازمان :

وظیفه:

دو وسیله ی نقلیه ی زیر را باهم مقایسه کن و در باره ی خوبی ها و عیب های هر یک بنویس .

۱۰



تفاوت صنایع مادر و صنایع مصرفی را بنویس با ذکر مثال .

۱۱

موفق باشید .

« ورود به سایت

بانک گام به گام
دیجی کنکور



وبسایت دیجی کنکور بزرگترین مرجع جزوات از ابتدایی تا کنکور

دیجی کنکور

رسانه دانش آموزان موفق

DigiKonkur.com

کنکوری ها
یازدهمی ها
دهمی ها



کانال تلگرام دیجی کنکور

یک کانال جامع به جای همه اپ ها و کانال های دیگر

دوره های مشاوره ای

برنامه ریزی روزانه

نمونه سوالات امتحانی

فیلم های کنکوری

پادکست های انگیزشی

جزوات درسی

و هر چیزی که نیاز داری و نداری ...
همه خدمات این کانال همیشه رایگان است

برای عضویت اینجا کلیک کنید



DGKonkur

